

Subject
Code:

1602/UE-BETI/RCE-M

SET - (A)

Question Booklet No. 1065690

परीक्षा केन्द्राध्यक्ष की मोहर

Seal of Superintendent of Examination Centre

परीक्षार्थी द्वारा बॉल-प्वाइण्ट पेन से भरा जाए

To be filled in by Candidate by Ball-Point pen only

उत्तर-शीट का क्रमांक

Sl. No. of Answer-Sheet

अनुक्रमांक

Roll No.

घोषणा : मैंने नीचे दिये गये निर्देश अच्छी तरह पढ़कर समझ लिए हैं।

Declaration : I have read and understood the instructions given below.

वीक्षक के हस्ताक्षर

(Signature of Invigilator).....

वीक्षक के नाम

(Name of Invigilator).....

अभ्यर्थी के हस्ताक्षर

(Signature of Candidate).....

अभ्यर्थी का नाम

(Name of Candidate).....

पूर्णांक - 150

समय - 3 घंटे

प्रश्न-पुस्तिका में पृष्ठों की संख्या
Number of Pages in this Question Booklet

48

प्रश्न-पुस्तिका में प्रश्नों की संख्या
Number of Questions in this Question Booklet

150

INSTRUCTION TO CANDIDATES

1. Immediately after getting the Booklet read instructions carefully, mentioned on the front and back page of the Question Booklet and do not open the seal given on the right hand side, unless asked by the invigilator.
2. Write your Roll No., Answer-Sheet No., in the specified places given above and put your signature.
3. Make all entries in the OMR Answer-Sheet as per the given instructions, otherwise Answer-Sheet will not be evaluated.
4. After opening the seal, ensure that the Question Booklet contains total no. of pages as mentioned above and printing of all the 150 questions is proper. If any discrepancy is found, inform the invigilator within 15 minutes and get the correct Question Booklet.
5. While answering the question from the Question Booklet, for each question choose the correct/most appropriate option out of four options given, as answer and darken the circle provided against that option in the OMR Answer-Sheet, bearing the same serial number of the question. Darken the circle only with Black or Blue ball point pen.
6. Darken the circle of correct answer properly otherwise answers will not be evaluated. The candidate will be fully responsible for it.
7. There are 150 objective type questions in this Question Booklet. 1 mark is allotted for each correct Answer and 1/4 mark will be deducted for each wrong Answer.
8. Do not write anything anywhere in the Question Booklet and the Answer-Sheet except making entries in the specified places otherwise OMR sheet will not be evaluated.
9. After completion of the examination, only OMR Answer-Sheet and cover page of Question Booklet is to be handed over to the invigilator. Carbon copy of the Answer-Sheet and Question Booklet may be taken away by the examinee.
10. This Question Paper consists of Parts namely :
Part - A : Knowledge of Computer 1-50
Part - B : (1) Hindi (with Grammar) 51-60
(2) English 61-70
(3) Mathematics 71-90
(4) General Knowledge 91-110
(5) Current Affairs 111-120
(6) General Knowledge of State 121-140
(7) Sports 141-145
(8) National-International 146-150
11. In case of any ambiguity in Hindi version, the English version shall be considered authentic. For Technical words terminology in English shall be considered as standard.

परीक्षार्थियों के लिए निर्देश

1. प्रश्न-पुस्तिका मिलते ही मुख पृष्ठ एवं अंतिम पृष्ठ में दिए गए निर्देशों को अच्छी तरह पढ़ लें। दाहिनी ओर लगी सील को वीक्षक के कहने से पूर्व न खोलें।
2. ऊपर दिए हुए निर्धारित स्थानों में अपना अनुक्रमांक, उत्तर-शीट का क्रमांक लिखें तथा अपने हस्ताक्षर करें।
3. ओ.एम.आर. उत्तर-शीट में समस्त प्रविष्टियां दिये गये निर्देशानुसार करें अन्यथा उत्तर-शीट का मूल्यांकन नहीं किया जाएगा।
4. सील खोलने के बाद सुनिश्चित कर लें कि प्रश्न-पुस्तिका में कुल पृष्ठ ऊपर लिखे अनुसार दिए हुए हैं तथा उसमें सभी 150 प्रश्नों का मुद्रण सही है। किसी भी प्रकार की त्रुटि होने पर 15 मिनट के अंदर वीक्षक को सूचित कर सही प्रश्न-पुस्तिका प्राप्त करें।
5. प्रत्येक प्रश्न हेतु प्रश्न-पुस्तिका में प्रश्न के नीचे दिए गए चार विकल्पों में से सही/सबसे उपयुक्त केवल एक ही विकल्प का चयन कर उत्तर-शीट में सही विकल्प वाले गोले को जो उस प्रश्न के सरल क्रमांक से सम्बंधित हो काले या नीले बॉल-प्वाइण्ट पेन से भरें।
6. सही उत्तर वाले गोले को अच्छी तरह से भरें, अन्यथा उत्तरों का मूल्यांकन नहीं होगा। इसकी समस्त जिम्मेदारी परीक्षार्थी की होगी।
7. प्रश्न-पुस्तिका में 150 वस्तुनिष्ठ प्रश्न दिए गए हैं। प्रत्येक सही उत्तर हेतु 1 अंक आबंटित किया गया है तथा गलत उत्तर अंकित करने पर 1/4 अंक कांटे जायेंगे।
8. प्रश्न-पुस्तिका तथा उत्तर-शीट में निर्दिष्ट स्थानों पर प्रविष्टियां भरने के अतिरिक्त कहीं भी कुछ न लिखें अन्यथा OMR शीट का मूल्यांकन नहीं किया जायेगा।
9. परीक्षा समाप्त के उपरान्त केवल ओ.एम.आर. उत्तर-शीट एवं प्रश्न पुस्तिका को कच्कर पेज वीक्षक को सौंपनी है। उत्तर-शीट की कार्बन प्रति तथा प्रश्न-पुस्तिका परीक्षार्थी अपने साथ ले जा सकते हैं।
10. इस प्रश्न पुस्तिका में निम्न भाग होंगे :
भाग - अ : कम्प्यूटर संबंधी सामान्य ज्ञान 1-50
भाग - ब : (1) हिन्दी (व्याकरण सहित) 51-60
(2) अंग्रेजी 61-70
(3) गणित 71-90
(4) सामान्य ज्ञान 91-110
(5) समसामयिक घटनाक्रम 111-120
(6) राज्य की सामान्य जानकारी 121-140
(7) खेलकूद 141-145
(8) देश-विदेश 146-150
11. यदि हिन्दी भाषा में कोई सन्देह है तो अंग्रेजी भाषा को ही प्रामाणिक माना जायेगा। तकनीकी शब्दों के लिये अंग्रेजी शब्दावली ही मानक माना जायेगा।

SPACE FOR ROUGH WORK / रफ कार्य के लिये जगह

PART - A
KNOWLEDGE OF COMPUTER

भाग - अ
कम्प्यूटर संबंधी सामान्य ज्ञान

1. To type subscript character like H₂O, use the following keyboard combination :
 - (A) Alt + =
 - (B) Ctrl + =
 - (C) Ctrl + Shift + =
 - (D) Alt + Shift + =
 2. Which one of the following search engine is exclusively meant for scientific information ?
 - (A) Google
 - (B) SCIRUS
 - (C) Yahoo
 - (D) Altavista
 3. Cell address \$A \$4 in a formula means it is a :
 - (A) mixed cell reference
 - (B) absolute reference
 - (C) relative cell reference
 - (D) all of these
1. सब-स्क्रिप्ट H₂O जैसे कैरेक्टर के लिए निम्नलिखित की-कॉम्बिनेशन उपयोग किया जाता है :
 - (A) आल्ट + =
 - (B) कंट्रोल + =
 - (C) कंट्रोल + शिफ्ट + =
 - (D) आल्ट + शिफ्ट + =
 2. निम्नलिखित में से कौन-सा सर्च इंजिन विशेषकर वैज्ञानिक सूचना के लिए है ?
 - (A) गूगल
 - (B) साइरस
 - (C) याहू
 - (D) अल्टाविस्टा
 3. एक सूत्र में सेल एड्रेस (पता) \$A \$4 का मतलब होता है :
 - (A) मिक्स्ड सेल रिफरेन्स
 - (B) एबसाल्युट रिफरेन्स
 - (C) रिलेटिव सेल रिफरेन्स
 - (D) उपरोक्त सभी

SPACE FOR ROUGH WORK / रफ कार्य के लिये जगह

4. Moving Picture Experts Group (MPEG) is used to compress :
- (A) Frames
(B) Images
(C) Audio
(D) Video
5. The primary function of an operating system is :
- (A) memory management
(B) process management
(C) disk and I/O device management
(D) all of the above
6. The delay that occur during the playback of a stream is called :
- (A) Stream delay
(B) Playback delay
(C) Jitter
(D) Event delay
7. A CD - R is also known as :
- (A) WORM
(B) WORO
(C) WORD
(D) WMRO
4. मूविंग पिक्चर एक्सपर्ट ग्रुप (एम.पी.इ.जी.) का उपयोग निम्नलिखित को कम्प्रेस करने के लिए किया जाता है :
- (A) फ्रेम्स
(B) इमेजेस
(C) आडियो
(D) विडियो
5. एक आपरेटिंग सिस्टम का मुख्य फंक्शन है :
- (A) मेमोरी मैनेजमेंट
(B) प्रोसेस मैनेजमेंट
(C) डिस्क और इनपुट/आउटपुट डिवाइस मैनेजमेंट
(D) उपरोक्त सभी
6. स्ट्रीम के प्लेबैक में जो विलम्ब होता है वह कहलाता है :
- (A) स्ट्रीम डिले
(B) प्लेबैक डिले
(C) जितर
(D) इवेन्ट डिले
7. एक सी.डी.-आर. को _____ के रूप में भी जाना जाता है।
- (A) WORM
(B) WORO
(C) WORD
(D) WMRO

SPACE FOR ROUGH WORK / रफ कार्य के लिये जगह

8. The main difference between Windows and DOS is the ability to :
- (A) Multitask
(B) Speed up
(C) Run a programme
(D) None of these
9. The following is the code embedded in some legitimate program that is set to "explode" when certain conditions are met :
- (A) Trap doors
(B) Trojan horse
(C) Logic bomb
(D) Virus
10. How many numbers could ENIAC store in its internal memory ?
- (A) 100
(B) 20
(C) 80
(D) 40
11. Which of the following protocol allows to download an e-mail from e-mail server ?
- (A) HTTP
(B) FTP
(C) SMTP
(D) PoP3
8. विंडोज और डॉस आपरेटिंग सिस्टम के बीच मुख्य अन्तर _____ की योग्यता है।
- (A) मल्टीटास्क
(B) स्पीड अप
(C) रन ए प्रोग्राम
(D) उपरोक्त में से कोई नहीं
9. निम्नलिखित लेजिटीमेट प्रोग्राम में एक एम्बेडेड कोड है जो कुछ शर्तों के पूर्ण होने पर एक्सप्लोड करता है :
- (A) ट्रैप डोर्स
(B) ट्रॉजन हार्स
(C) लॉजिक बम
(D) वायरस
10. आन्तरिक मेमोरी में एनिएक कम्प्यूटर कितने अंक स्टोर कर सकता है ?
- (A) 100
(B) 20
(C) 80
(D) 40
11. निम्न में से कौन-सा प्रोटोकॉल e-mail server से e-mail डाउनलोड करने की अनुमति देता है ?
- (A) HTTP
(B) FTP
(C) SMTP
(D) PoP3

SPACE FOR ROUGH WORK / रफ कार्य के लिये जगह

12. Software that prevents, detects and removes destructive program is called _____.

- (A) detector
- (B) virus
- (C) remover
- (D) antivirus

13. Data cannot be written more than once using :

- (A) CD - RW
- (B) CD - R
- (C) DVD - RW
- (D) Flash drive

14. What type of device is a computer mouse ?

- (A) Storage
- (B) Input
- (C) Output
- (D) Input and Output both

12. साफ्टवेयर जो कि नुकसानदाय/विनाश करने वाले प्रोग्राम को ढूँढता है, हटाता है एवं इससे बचाता है; कहलाता है _____.

- (A) डिटेक्टर
- (B) वायरस
- (C) रिमूवर
- (D) एन्टीवायरस

13. _____ के उपयोग से डेटा एक बार से अधिक नहीं लिखा जा सकता है।

- (A) सी.डी.-आर.डब्ल्यू.
- (B) सी.डी.-आर.
- (C) डी.वी.डी.-आर.डब्ल्यू.
- (D) फ्लैश ड्राइव

14. कम्प्यूटर माऊस किस प्रकार का डिवाइस है ?

- (A) स्टोरेज
- (B) इनपुट
- (C) आऊटपुट
- (D) इनपुट तथा आऊटपुट दोनों

SPACE FOR ROUGH WORK / रफ कार्य के लिये जगह

15. The type of threats on the security of a computer system or network are _____.

- (a) Interruption
- (b) Interception
- (c) Modification
- (d) Creation
- (e) Fabrication

Codes :

- (A) (a), (b), (c) and (d) only
- (B) (b), (c), (d) and (e) only
- (C) (a), (b), (c) and (e) only
- (D) (a), (b), (c), (d) and (e)

16. In MS-Word, to spell check which function key you will press ?

- (A) F5
- (B) F6
- (C) F7
- (D) F8

17. Planning the content and the flow of multimedia presentation is called _____.

- (A) Design
- (B) Development
- (C) Storyboard
- (D) Layout

15. कम्प्यूटर सिस्टम या नेटवर्क की सिक्यूरिटी के लिए कौन से थ्रेट्स (खतरे) हैं ?

- (a) ईन्टरप्शन
- (b) ईन्टरसेप्शन
- (c) माडिफिकेशन
- (d) क्रीएशन
- (e) फेब्रिकेशन

कूट :

- (A) (a), (b), (c) और (d) केवल
- (B) (b), (c), (d) और (e) केवल
- (C) (a), (b), (c) और (e) केवल
- (D) (a), (b), (c), (d) और (e)

16. एम.एस. वर्ड में स्पेल चेक के लिए किस 'फन्क्शन की' का उपयोग किया जाता है ?

- (A) F5
- (B) F6
- (C) F7
- (D) F8

17. मल्टीमीडिया प्रेजेन्टेशन के विषय-वस्तु (content) एवं उसके प्लो की योजना को _____ कहते हैं।

- (A) डिजाइन
- (B) डेवलपमेंट
- (C) स्टोरीबोर्ड
- (D) लेआउट

SPACE FOR ROUGH WORK / रफ कार्य के लिये जगह

18. The Banker's algorithm is used :

- (A) to rectify deadlock
- (B) to detect deadlock
- (C) to prevent deadlock
- (D) to solve deadlock

19. Which are some of the fields, where computer plays a crucial role ?

- (A) Education
- (B) Science
- (C) Health
- (D) All of the above

20. _____ is not a multimedia application/software.

- (A) PowerPoint
- (B) PageMaker
- (C) Flash
- (D) Computer Games

21. Microsoft's search engine is _____.

- (A) bing
- (B) altavista
- (C) google
- (D) none of these

18. बैंकर एल्गोरिथम का उपयोग किया जाता है :

- (A) डेडलॉक दूर करने के लिए
- (B) डेडलॉक की पहचान के लिए
- (C) डेडलॉक रोकने के लिए
- (D) डेडलॉक हल करने के लिए

19. इनमें से कौन से कुछ ऐसे क्षेत्र हैं, जहाँ कम्प्यूटर महत्त्वपूर्ण रोल अदा करता है ?

- (A) शिक्षा
- (B) विज्ञान
- (C) स्वास्थ्य
- (D) उपरोक्त सभी

20. _____ मल्टीमीडिया एप्लीकेशन/साफ्टवेयर नहीं है।

- (A) पॉवरप्वाइन्ट
- (B) पेजमेकर
- (C) फ्लैश
- (D) कम्प्यूटर गेम्स

21. माइक्रोसाफ्ट का सर्च इंजन _____ है।

- (A) बिंग (bing)
- (B) अल्टाविस्टा (altavista)
- (C) गूगल (google)
- (D) इनमें से कोई नहीं

SPACE FOR ROUGH WORK / रफ कार्य के लिये जगह

22. A group of magnetic tapes, videos or terminals is usually under the control of one master is :
- (A) Cylinder
(B) Surface
(C) Track
(D) Cluster
23. Websites that allow you to edit/modify/create/delete content are called _____.
- (A) Wikis
(B) Blogs
(C) Homepages
(D) Webservers
24. The number of pixels a video card can render to screen and write to video memory in a second is known as _____.
- (A) Fillrate
(B) Graphic Speed
(C) Performance Rate
(D) Fill Frequency
25. The digital payment system from Google is known as _____.
- (A) Google Wallet
(B) Google Payments
(C) Google Money
(D) Google Cash
22. मैग्नेटिक टेप, विडियो अथवा टर्मिनल का समूह, जो सामान्यतः एक मास्टर के अधीन होता है, है :
- (A) सिलिन्डर
(B) सरफेस
(C) ट्रैक
(D) क्लस्टर
23. वेबसाइट्स जो कि कंटेंट को edit/modify/create/delete करने की अनुमति देती हैं _____ कहलाती हैं।
- (A) विकिस
(B) ब्लॉग्स
(C) होमपेजेस
(D) वेबसर्वर
24. विडियो कार्ड द्वारा एक सेकण्ड में स्क्रीन को दी जाने वाली एवं विडियो मेमोरी में लिखी जाने वाली पिक्सल की संख्या को _____ कहते हैं।
- (A) फिलरेट
(B) ग्राफिक स्पीड
(C) परफार्मेंन्स रेट
(D) फिल फ्रिक्वेन्सी
25. गूगल की डिजिटल पेमेन्ट सिस्टम को कहते हैं _____।
- (A) गूगल वॉलेट
(B) गूगल पेमेन्ट्स
(C) गूगल मनी
(D) गूगल कैश

SPACE FOR ROUGH WORK / रफ कार्य के लिये जगह

26. Which of the following Windows Version supports 64-bit processor ?
- (A) Windows-2000
(B) Windows-XP
(C) Windows-98
(D) Windows-95
26. निम्नलिखित में से कौन सा विंडोज वर्सन 64-बिट प्रोसेसर को सपोर्ट करता है ?
- (A) विंडोज-2000
(B) विंडोज-XP
(C) विंडोज-98
(D) विंडोज-95
27. Which is the smallest of the following computers ?
- (A) Notebook
(B) Laptop
(C) Desktop
(D) Workstation
27. निम्न में से कौन-सा सबसे छोटा कम्प्यूटर है ?
- (A) नोटबुक
(B) लैपटाप
(C) डेस्कटाप
(D) वर्कस्टेशन
28. Which of the following can't print graphics ?
- (A) Daisy Wheel Printer
(B) Page Printer
(C) Thermal Printer
(D) Ink - Jet Printer
28. इनमें से कौन सा प्रिंटर ग्राफिक्स प्रिंट नहीं कर सकता ?
- (A) डेजी व्हील प्रिंटर
(B) पेज प्रिंटर
(C) थर्मल प्रिंटर
(D) इंक-जेट प्रिंटर
29. Junk e-mail is also called :
- (A) Cookiee
(B) Spool
(C) Spam
(D) None of these
29. जंक ई-मेल को कहा जाता है :
- (A) कूकी
(B) स्पूल
(C) स्पैम
(D) इनमें से कोई नहीं

SPACE FOR ROUGH WORK / रफ कार्य के लिये जगह

30. Which of the following malicious program do **not** replicate automatically ?

- (A) Trojan Horse
- (B) Virus
- (C) Worm
- (D) Zombie

31. How are data organized in spreadsheet ?

- (A) Lines and Spaces
- (B) Layers and Planes
- (C) Rows and Columns
- (D) Height and Width

32. The printer in which printing head and paper is forced together to form the letters is called :

- (A) Impact printer
- (B) Non-Impact printer
- (C) Page printer
- (D) Line printer

33. High Density double sided floppy disks could store the following data :

- (A) 1.40 MB
- (B) 1.44 GB
- (C) 1.40 GB
- (D) 1.44 MB

30. निम्नलिखित में से कौन-सा मैलिसियस प्रोग्राम स्वचालन से रेप्लीकेट नहीं करता है ?

- (A) ट्रॉजन हार्स
- (B) वायरस
- (C) वर्म
- (D) जाम्बी

31. एक स्प्रेडशीट में डाटा किस तरह व्यवस्थित होता है ?

- (A) लाईन्स तथा स्पेसेस् में
- (B) लेयर्स तथा प्लेन्स में
- (C) रो तथा कॉलम में
- (D) हाइट तथा विड्थ में

32. ऐसा प्रिंटर, जिसमें अक्षर बनाने के लिए, प्रिंटिंग हेड तथा पेपर को एक साथ फोर्स किया जाता है, वह कहलाता है :

- (A) इम्पैक्ट प्रिंटर
- (B) नॉन-इम्पैक्ट प्रिंटर
- (C) पेज प्रिंटर
- (D) लाइन प्रिंटर

33. हाइ डेन्सिटी डबल साइडेड फ्लोपी डिस्क निम्नलिखित डाटा स्टोर कर सकती है :

- (A) 1.40 एम.बी.
- (B) 1.44 जी.बी.
- (C) 1.40 जी.बी.
- (D) 1.44 एम.बी.

SPACE FOR ROUGH WORK / रफ कार्य के लिये जगह

34. To open a new file in MS Word, the shortcut key is :
- (A) Ctrl + X
(B) Ctrl + N
(C) Ctrl + Y
(D) Ctrl + V
35. What are the units used to measure the speed of a printer ?
- (A) cps
(B) lpm
(C) ppm
(D) All of these
36. Which of the following is valid IP address ?
- (A) 984.12.787.76
(B) 192.168.321.10
(C) 1.888.234.3456
(D) 192.168.56.115
37. Which of these searches new terms on internet and stores the searched terms in a database ?
- (A) Crawler
(B) Indexer
(C) Search algorithm
(D) None of these
34. एम.एस. वर्ड में नया फाइल खोलने के लिए शार्टकट की (कुंजी) है :
- (A) कंट्रोल + एक्स
(B) कंट्रोल + एन
(C) कंट्रोल + वाई
(D) कंट्रोल + व्ही
35. प्रिंटर की गति को नापने के लिए किस यूनिट का उपयोग किया जाता है ?
- (A) सीपीएस
(B) एलपीएम
(C) पीपीएम
(D) उपरोक्त सभी
36. निम्नलिखित में से कौन सा वैध आइ.पी. एड्रेस है ?
- (A) 984.12.787.76
(B) 192.168.321.10
(C) 1.888.234.3456
(D) 192.168.56.115
37. निम्नलिखित में से कौन-सा सर्च इंटरनेट में नए टर्म सर्च करता है तथा उसे डाटा बेस में स्टोर करता है ?
- (A) क्रालर
(B) इन्डेक्सर
(C) सर्च एल्गोरिथम
(D) उपरोक्त में कोई नहीं

SPACE FOR ROUGH WORK / रफ कार्य के लिये जगह

38. Which extension is given to Word document by default ?
- (A) .ext
(B) .com
(C) .doc
(D) None of these
39. The task Manager of a computer can be opened by a combination of keys :
- (A) Alt+Ctrl+Del
(B) Alt+Ctrl+F5
(C) Alt+Ctrl+F10
(D) Alt+F9
40. Which one of the following input device is user programmable ?
- (A) Dumb terminal
(B) Smart terminal
(C) VDT
(D) Intelligent terminal
41. It is a malware computer program that replicates itself :
- (A) Mydoom
(B) Worm
(C) Virus
(D) Trojan Horse
38. वर्ड डाक्यूमेंट में डिफाल्ट द्वारा कौन-सा एक्सटेंशन दिया जाता है ?
- (A) .इ एक्स टी (.ext)
(B) .कॉम (.com)
(C) .डॉक (.doc)
(D) इनमें से कोई नहीं
39. कम्प्यूटर का टास्क मैनेजर की के किस कांम्बिनेशन से खोला जा सकता है ?
- (A) आल्ट+कंट्रोल+डेल
(B) आल्ट+कंट्रोल+F5
(C) आल्ट+कंट्रोल+F10
(D) आल्ट+F9
40. निम्नलिखित में से कौन सा इनपुट डिवाइस यूजर प्रोग्रामेबल है ?
- (A) डम्ब टर्मिनल
(B) स्मार्ट टर्मिनल
(C) वी.डी.टी. (VDT)
(D) इन्टेलिजेन्ट टर्मिनल
41. यह एक मालवेयर कम्प्यूटर प्रोग्राम है जो स्वयं की प्रतियाँ बनाता है :
- (A) माइडूम (Mydoom)
(B) वर्म (Worm)
(C) वायरस (Virus)
(D) ट्रोजन होर्स (Trojan Horse)

SPACE FOR ROUGH WORK / रफ कार्य के लिये जगह

42. The storage capacity of a CD is measured in :
- (A) Kilobyte
(B) Megabyte
(C) Gigabyte
(D) Terabyte
43. Which of the following logic families is well suited for high speed operations ?
- (A) TTL
(B) ECL
(C) CMOS
(D) MOS
44. Which of the following is not an input device ?
- (A) OCR
(B) COM
(C) Optical Scanners
(D) Voice Recognition Device
45. Dot matrix printer is :
- (A) Unidirectional
(B) Bi-directional
(C) Sequential
(D) Random
46. Which one of the following is not an operating system ?
- (A) Unix
(B) Windows
(C) Apple
(D) Linux
42. एक CD की भंडारण क्षमता को मापा जाता है :
- (A) किलोबाइट में
(B) मेगाबाइट में
(C) गीगाबाइट में
(D) टेराबाइट में
43. निम्नलिखित में से कौन सा लॉजिक फेमिली हाई स्पीड आपरेशन के लिए उपयुक्त है ?
- (A) टी.टी.एल.
(B) ई.सी.एल.
(C) सी.एम.ओ.एस.
(D) एम.ओ.एस.
44. इनमें से कौन-सा इनपुट डिवाइस नहीं है ?
- (A) ओ.सी.आर.
(B) कॉम
(C) ऑप्टिकल स्कैनर्स
(D) वाइस रिकग्निशन डिवाइस
45. डॉट मैट्रिक्स प्रिंटर है :
- (A) यूनिडाइरेक्शनल
(B) बाइ-डाइरेक्शनल
(C) सिक्विशियल
(D) रैंडम
46. निम्न में से कौन-सा आपरेटिंग सिस्टम नहीं है ?
- (A) यूनिक्स
(B) विंडोज
(C) एप्पल
(D) लाइनक्स

SPACE FOR ROUGH WORK / रफ कार्य के लिये जगह

47. 1260 computer virus is an example of a _____ virus.
- (A) Polymorphic
(B) Multipartite
(C) Macro
(D) Boot Sector
48. The brain of any computer system is :
- (A) Control Unit
(B) Arithmetic Unit
(C) Storage Unit
(D) Central Processing Unit
49. Using a webpage of a website you click _____ to go to another inner level webpage.
- (A) Search Engine
(B) Home
(C) Hyperlink
(D) Web address
50. The following is true for an inkjet printer :
- (a) prints an entire line at a time
(b) is a non-impact printer
(c) allows multiple copies to be taken at a time
(d) prints one character at a time
- Codes :
- (A) (a) and (b)
(B) (a) and (c)
(C) (c) and (d)
(D) (b) and (c)
47. 1260 कम्प्यूटर वायरस _____ वायरस का एक उदाहरण है।
- (A) पॉलीमॉर्फिक
(B) मल्टीपरटाइट
(C) मैक्रो
(D) बूट सेक्टर
48. किसी भी कम्प्यूटर सिस्टम का ब्रेन (मस्तिष्क) होता है :
- (A) कंट्रोल यूनिट
(B) अरिथमेटिक यूनिट
(C) स्टोरेज यूनिट
(D) सेंट्रल प्रोसेसिंग यूनिट
49. वेबसाइट के एक वेबपेज पर _____ को क्लिक कर आंतरिक लेवल के वेबपेज पर जाते हैं।
- (A) सर्च इंजन
(B) होम
(C) हाइपरलिंक
(D) वेब एड्रेस
50. एक इंकजेट प्रिंटर के लिए निम्नलिखित सही है :
- (a) पूरी लाईन को एक साथ प्रिंट करता है
(b) एक नॉन-इम्पैक्ट प्रिंटर है
(c) एक से अधिक प्रतियाँ एक ही बार में प्राप्त की जा सकती हैं
(d) एक बार में सिर्फ एक कैरेक्टर प्रिंट करता है
- कूट :
- (A) (a) और (b)
(B) (a) और (c)
(C) (c) और (d)
(D) (b) और (c)

SPACE FOR ROUGH WORK / रफ कार्य के लिये जगह

PART - B
(1) HINDI (WITH GRAMMAR)
भाग - ब
(1) हिन्दी (व्याकरण सहित)

51. 'चाय' किस भाषा का शब्द है ?
(A) अंग्रेजी
(B) फ्रेंच
(C) चीनी
(D) जापानी
52. 'पवित्र' में प्रयुक्त संधि का नाम है :
(A) यण् संधि
(B) गुण संधि
(C) वृद्धि संधि
(D) अयादि संधि
53. जातिवाचक संज्ञा बताइए :
(A) श्याम
(B) लड़का
(C) सेना
(D) दुःख
54. कौन-सा शब्द 'कमल' का पर्यायवाची शब्द नहीं है ?
(A) नलिन
(B) राजीव
(C) उत्पल
(D) रसाल
55. 'जो पढ़ेगा, वह पास होगा' कौन-सा वाक्य है ?
(A) निश्चयात्मक वाक्य
(B) संदेहसूचक वाक्य
(C) संकेत सूचक वाक्य
(D) विधि सूचक वाक्य
56. 'आँख लगना' मुहावरे का सही अर्थ है :
(A) नींद आना
(B) आसक्त होना
(C) गहरी निद्रा में सोना
(D) आँखों का चिपक जाना
57. 'भाई-बहन' में कौन-सा समास है ?
(A) बहुब्रीहि
(B) तत्पुरुष
(C) द्वन्द्व
(D) द्विगु
58. कौन-सा वस्त्र पुल्लिंग है ?
(A) धोती
(B) कमीज
(C) कुर्ता
(D) टोपी
59. शुद्ध वर्तनी का चयन कीजिए :
(A) उज्वल
(B) उज्जवल
(C) उज्ज्वल
(D) उत्ज्वल
60. 'वकील' किस भाषा का शब्द है ?
(A) अरबी
(B) फ़ारसी
(C) तुर्की
(D) पुर्तगाली

SPACE FOR ROUGH WORK / रफ़ कार्य के लिये जगह

PART - B
(2) ENGLISH
भाग - ब
(2) अंग्रेजी

61. Choose the sentence in which there is no error :

- (a) I trust English.
(b) I can speak English fluently.
(c) I trust the English.
(d) I can speak the English fluently.
(A) (a) and (b)
(B) (b) and (c)
(C) (c) and (d)
(D) (a) and (d)

62. Match the one word substitute for words given in column 'A' with a single word given in column 'B' :

- | 'A' | 'B' |
|------------------------------|-------------------|
| (a) A lover of woman
kind | (i) egoist |
| (b) A lover of oneself | (ii) gourmand |
| (c) A lover of others | (iii) philogynist |
| (d) A lover of food | (iv) altruist |
| (a) (b) (c) (d) | |
| (A) (iii) (i) (iv) (ii) | |
| (B) (i) (ii) (iii) (iv) | |
| (C) (iv) (iii) (ii) (i) | |
| (D) (ii) (iv) (i) (iii) | |

63. The old woman, whom
(a)

I thought was a lunatic,
(b)

behaved well at the wedding function
(c)

and gave no evidence of abnormality
(d)

Which part has error ?

- (A) Part (a)
(B) Part (b)
(C) Part (c)
(D) None of above

64. Her teacher told the class that the
(a)

human heart was about as big as
(b) (c)

a clenched fist
(d)

Choose the part of the above sentence which has a grammatical error ?

- (A) Part (a)
(B) Part (b)
(C) Part (c)
(D) Part (d)

SPACE FOR ROUGH WORK / रफ कार्य के लिये जगह

65. Choose the sentence in which the use of preposition is **correct** ?

- (A) Try to see it from my point of view.
- (B) Try to see it according to my point of view.
- (C) Try to see it after my point of view.
- (D) Try to see it by my point of view.

66. Match the words in **column 'A'** with words opposite in meaning given in **column 'B'** :

'A'		'B'	
(a) spurious	(i) opaque		
(b) transparent	(ii) nocturnal		
(c) diurnal	(iii) genuine		
(d) surplus	(iv) deficit		
(a) (b) (c) (d)			
(A) (i) (ii) (iii) (iv)			
(B) (iv) (iii) (ii) (i)			
(C) (iii) (i) (ii) (iv)			
(D) (ii) (i) (iii) (iv)			

67. Choose the **correct** sentence :

- (A) We were late due to the blowout.
- (B) Our lateness was due to the blowout.
- (C) The highways were slippery due to the ice.
- (D) Due to the weather there was a large crowd.

68. Choose the **correct** statement regarding the following sentence :

The students were officially told that
(a)

they are not to cross the road
(b)

against the red light.
(c)

- (A) Part (a) has a grammatical error.
- (B) Part (b) has a grammatical error.
- (C) Part (c) has a grammatical error.
- (D) There is no grammatical error in the sentence.

69. Choose the **correct** synonym for the word - 'Fragile'.

- (A) strong
- (B) brittle
- (C) florid
- (D) juicy

70. Choose the **correct** sentence which expresses the sentence given below in passive voice :

The residents celebrated the Independence Day.

- (A) The Independence Day was celebrated by the residents.
- (B) The Independence Day is celebrated by the residents.
- (C) Celebration of Independence Day was done by the residents.
- (D) The Independence Day has been celebrated by the residents.

SPACE FOR ROUGH WORK / रफ कार्य के लिये जगह

PART - B
(3) MATHEMATICS

भाग - ब
(3) गणित

71. Which of the following statements are correct ?

- (i) Diagonals of a rectangle bisect each other.
 - (ii) Every Rhombus is a parallelogram.
 - (iii) Quadrilateral, whose four sides are equal, is a square.
 - (iv) Diagonals of a Rhombus are equal.
- (A) Only (i) is correct
(B) (i) and (ii) are correct
(C) (i), (ii) and (iii) are correct
(D) All are correct

72. A jar contains only toffees with red, white and blue wrappers. The number of red wrappers is $\frac{4}{5}$ of the number of white wrappers ones, and the number of white ones is $\frac{3}{4}$ of the number of blue wrappers. If there are 470 wrappers in all, how many of them are blue ?

- (A) 120
(B) 150
(C) 130
(D) 200

71. इनमें से कौन-सा कथन सत्य है ?

- (i) आयत के विकर्ण एक दूसरे को समद्विभाजित करते हैं।
 - (ii) प्रत्येक समलम्ब चतुर्भुज एक समान्तर चतुर्भुज होता है।
 - (iii) एक चतुर्भुज जिसके चारों भुजाएं बराबर हैं, एक वर्ग होता है।
 - (iv) एक समलम्ब के विकर्ण समान होते हैं।
- (A) केवल कथन (i) सत्य है।
(B) कथन (i) व (ii) सत्य हैं।
(C) कथन (i), (ii) तथा (iii) सत्य हैं।
(D) सभी कथन सत्य हैं।

72. किसी जार में लाल, सफेद और नीले रैपर वाले टॉफी रखे थे। लाल रैपर की संख्या सफेद रैपर की $\frac{4}{5}$ है, और सफेद रैपर की संख्या नीले रैपर की संख्या की $\frac{3}{4}$ है। यदि कुल 470 रैपर हैं तो नीले रैपर कितने हैं ?

- (A) 120
(B) 150
(C) 130
(D) 200

SPACE FOR ROUGH WORK / रफ कार्य के लिये जगह

73. The average of five consecutive numbers is 16. The highest of these numbers is :
- (A) 21
(B) 20
(C) 18
(D) 19
74. The ratio of the base and the hypotenuse of a right-angled triangle is 4 : 5 and the perimeter of the triangle is 48 cm, then its area is :
- (A) 90 cm²
(B) 96 cm²
(C) 98 cm²
(D) 92 cm²
75. The least number which should be added to 1018 to make it a perfect square is :
- (A) 5
(B) 6
(C) 4
(D) 7
76. A number x exceeds another number y by 25%. By what percent is y less than x ?
- (A) 15
(B) 20
(C) 12
(D) 18
73. पाँच लगातार संख्याओं का औसत 16 है तो इनमें से सबसे बड़ी संख्या होगी :
- (A) 21
(B) 20
(C) 18
(D) 19
74. एक समकोण त्रिभुज के आधार एवं विकर्ण का अनुपात 4 : 5 है तथा त्रिभुज का परिमाप 48 से.मी. है तो, त्रिभुज का क्षेत्रफल होगा :
- (A) 90 cm²
(B) 96 cm²
(C) 98 cm²
(D) 92 cm²
75. वह न्यूनतम संख्या जिसको कि 1018 में जोड़ने से पूर्ण वर्ग प्राप्त होता है, होगी :
- (A) 5
(B) 6
(C) 4
(D) 7
76. एक संख्या x दूसरी संख्या y से 25% अधिक है तो y संख्या x से कितने प्रतिशत कम होगी ?
- (A) 15
(B) 20
(C) 12
(D) 18

SPACE FOR ROUGH WORK / रफ कार्य के लिये जगह

77. Find the largest angle of the triangle whose sides are 7 cm, 5 cm and 3 cm :
- (A) 45°
 (B) 60°
 (C) 90°
 (D) 120°
78. A shopkeeper earns a profit of 12% on selling a book at 10% discount on the printed price. The ratio of the cost price and the printed price of the book is :
- (A) 45 : 56
 (B) 50 : 61
 (C) 36 : 79
 (D) 63 : 92
79. The radius of the cylinder is made twice as large. How should the height be changed, so that volume remains the same as before ?
- (A) 25% of original height
 (B) 50% of original height
 (C) No change in height
 (D) $\frac{1}{2}$ % of original height
77. उस त्रिभुज का सबसे बड़ा कोण होगा यदि उसकी भुजायें 7 से.मी, 5 से.मी एवं 3 से.मी हैं :
- (A) 45°
 (B) 60°
 (C) 90°
 (D) 120°
78. एक दुकानदार एक किताब के छपे हुए दाम पर 10% छूट देने के उपरांत उसको बेचने के बाद 12% लाभ कमाता है तो किताब के क्रय मूल्य एवं छपे हुए मूल्य का अनुपात होगा :
- (A) 45 : 56
 (B) 50 : 61
 (C) 36 : 79
 (D) 63 : 92
79. किसी बेलन की त्रिज्या यदि दुगुनी कर दी गई हो तो उसकी ऊँचाई में क्या परिवर्तन होगा कि उसका आयतन अपरिवर्तित रहे ?
- (A) प्रारम्भिक ऊँचाई का 25%
 (B) प्रारम्भिक ऊँचाई का 50%
 (C) ऊँचाई में कोई परिवर्तन नहीं
 (D) प्रारम्भिक ऊँचाई का $\frac{1}{2}$ %

SPACE FOR ROUGH WORK / रफ कार्य के लिये जगह

80. If the price of coffee is increased by 10%, then by how much percentage must a housewife reduce her consumption, to have no extra expenditure ?

(A) $9\frac{1}{11}\%$

(B) $8\frac{3}{5}\%$

(C) $8\frac{1}{3}\%$

(D) $8\frac{2}{3}\%$

81. A train completes a journey without stoppage in 8 hours. If it had travelled 5 km/hr faster, it would have done the journey in 6 hr 40 min. The original speed of the train was :

(A) 25 km/hr

(B) 40 km/hr

(C) 45 km/hr

(D) 50 km/hr

82. $\frac{3}{5}$ part of a kerosene tin is filled. If 6 bottles are taken out of it and 3 bottles are filled again, then half of the tin is full. Then the capacity of the tin (in bottles) will be :

(A) 20

(B) 45

(C) 50

(D) 30

80. यदि कॉफी के दाम में 10 प्रतिशत का इजाफा होता है तो किसी गृहणी को कितने प्रतिशत अपना खर्च कम करना होगा जिससे कि उसको कोई अतिरिक्त खर्च न उठाना पड़े ?

(A) $9\frac{1}{11}\%$

(B) $8\frac{3}{5}\%$

(C) $8\frac{1}{3}\%$

(D) $8\frac{2}{3}\%$

81. एक ट्रेन किसी यात्रा को बिना रुके 8 घंटे में पूरी करती है। यदि ट्रेन की गति 5 किमी/घंटा ज्यादा होती तो ट्रेन उस यात्रा को 6 घंटे 40 मिनट में पूर्ण कर लेती। तब ट्रेन की प्रारंभिक गति रही होगी :

(A) 25 किमी/घंटा

(B) 40 किमी/घंटा

(C) 45 किमी/घंटा

(D) 50 किमी/घंटा

82. एक घासलेट टिन का $\frac{3}{5}$ वाँ भाग भरा हुआ है। यदि इसमें से 6 बोतल तेल निकाला गया तथा 3 बोतल तेल पुनः डाला गया तो टिन आधा भर जाता है। तो टिन की क्षमता (बोतलों में) होगी :

(A) 20

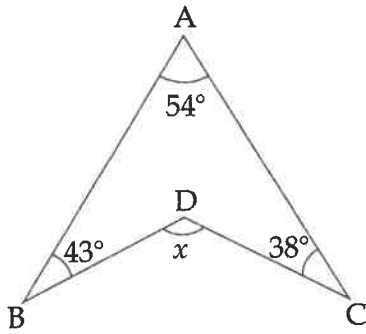
(B) 45

(C) 50

(D) 30

SPACE FOR ROUGH WORK / रफ कार्य के लिये जगह

83. The value of x from the given figure will be :

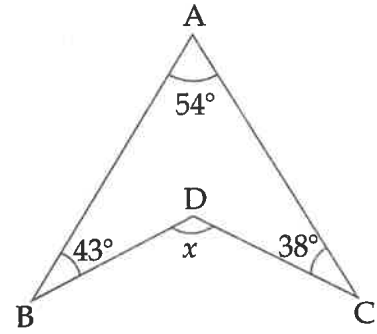


- (A) 120°
- (B) 124°
- (C) 135°
- (D) Cannot be found

84. The outer measurements of a closed wooden box are $45 \text{ cm} \times 32 \text{ cm} \times 28 \text{ cm}$. If the box is made of wood 1 cm thick, the capacity of wooden box is :

- (A) 33540 cm^3
- (B) 453228 cm^3
- (C) 3 cm^3
- (D) None of above

83. दिये गये चित्र के अनुसार x का मान होगा :



- (A) 120°
- (B) 124°
- (C) 135°
- (D) ज्ञात नहीं किया जा सकता

84. किसी लकड़ी के बंद डिब्बे के बाहरी माप $45 \text{ से.मी.} \times 32 \text{ से.मी.} \times 28 \text{ से.मी.}$ है। यदि डिब्बा 1 से.मी. चौड़ी लकड़ी से बना है तो उस लकड़ी के डिब्बे की क्षमता होगी :

- (A) 33540 घन से.मी.
- (B) 453228 घन से.मी.
- (C) 3 घन से.मी.
- (D) उपरोक्त में से कोई नहीं

SPACE FOR ROUGH WORK / रफ कार्य के लिये जगह

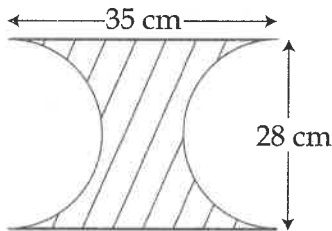
85. The volume of the largest cylinder formed when a rectangular piece of paper 22 cm by 15 cm is rolled along its longer side will be :

- (A) 570 cm^3
 (B) $577\frac{1}{2} \text{ cm}^3$
 (C) $577\frac{1}{3} \text{ cm}^3$
 (D) 578 cm^3

86. The income of A and B are in the ratio 3 : 2 and expense are in the ratio 5 : 3. If both save ₹ 200, then the income of A is :

- (A) ₹ 800
 (B) ₹ 1,500
 (C) ₹ 1,000
 (D) ₹ 1,200

87. A rectangle of length 35 cm and width 28 cm has a semi-circle cut out from each of its two sides as shown in the figure below. The area of shaded part will be :



- (A) 325 cm^2
 (B) 364 cm^2
 (C) 350 cm^2
 (D) 308 cm^2

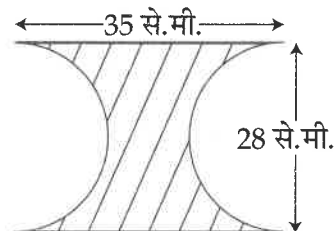
85. एक आयताकार कागज़ के टुकड़े को जिसकी माप $22 \text{ cm} \times 15 \text{ cm}$ है, लम्बी भुजा की तरफ से मोड़ा जाता है तो इस तरह बनने वाले बेलन का अधिकतम आयतन होगा :

- (A) 570 cm^3
 (B) $577\frac{1}{2} \text{ cm}^3$
 (C) $577\frac{1}{3} \text{ cm}^3$
 (D) 578 cm^3

86. A तथा B की आय का अनुपात 3 : 2 तथा खर्च का अनुपात 5 : 3 है। यदि दोनों ₹ 200 की बचत करते हैं, तो A का आय है :

- (A) ₹ 800
 (B) ₹ 1,500
 (C) ₹ 1,000
 (D) ₹ 1,200

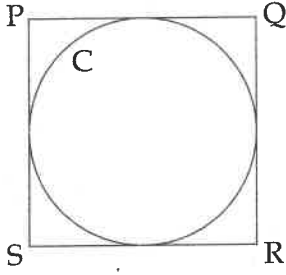
87. एक आयत जिसकी लम्बाई 35 से.मी. तथा चौड़ाई 28 से.मी. है तथा दिये गये चित्र के अनुसार आयत की दोनों भुजाओं से अर्धवृत्त काट के निकाले गये हैं तो रेखांकित भाग का क्षेत्रफल होगा :



- (A) 325 वर्ग से.मी.
 (B) 364 वर्ग से.मी.
 (C) 350 वर्ग से.मी.
 (D) 308 वर्ग से.मी.

SPACE FOR ROUGH WORK / रफ कार्य के लिये जगह

88. The area of the circle C in the given figure is 9π . What is the area of square PQRS ?



- (A) 24
(B) 30
(C) 36
(D) 81

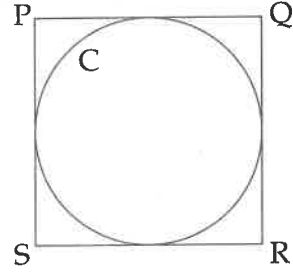
89. If 7 men or 8 women or 10 boys can finish a piece of work in 24 days each of them working 9 hours a day, then find how many men with the help of 4 women and 5 boys can finish the work in 18 days while each of them working 6 hours a day ?

- (A) 10 men
(B) 12 men
(C) 7 men
(D) 6 men

90. The average age of A and B is 20 years. If C were to replace A, the average would be 19 and if C were to replace B, the average would be 21. Ages of A, B and C are :

- (A) 16, 24, 20
(B) 22, 18, 20
(C) 18, 22, 16
(D) 24, 16, 18

88. दिये गये चित्र में वृत्त C का क्षेत्रफल 9π है, तो वर्ग PQRS का क्षेत्रफल क्या होगा ?



- (A) 24
(B) 30
(C) 36
(D) 81

89. यदि 7 पुरुष या 8 महिलाएँ या 10 बच्चे एक काम को 24 दिनों में पूर्ण करते हैं प्रत्येक दिन 9 घंटे काम करके, तो 4 महिलाओं एवं 5 बच्चों के साथ कितने पुरुष, प्रत्येक दिन 6 घंटे काम करते हुये, 18 दिनों में पूर्ण करेंगे ?

- (A) 10 पुरुष
(B) 12 पुरुष
(C) 7 पुरुष
(D) 6 पुरुष

90. A तथा B की औसत आयु 20 वर्ष है। यदि C, A का स्थान लेता है तो औसत आयु 19 वर्ष हो जाती है तथा यदि C, B का स्थान लेता है तो औसत आयु 21 हो जाती है तो A, B, C की आयु होगी :

- (A) 16, 24, 20
(B) 22, 18, 20
(C) 18, 22, 16
(D) 24, 16, 18

SPACE FOR ROUGH WORK / रफ कार्य के लिये जगह

(4) GENERAL KNOWLEDGE

(4) सामान्य ज्ञान

91. At which of the following place Subhash Chandra Bose took over the leadership of Indian National Army ?

- (A) Bangkok
- (B) Rangoon
- (C) Singapore
- (D) Tokyo

92. After independence which of the following plan recommended Govt. investment in irrigation and industrial sectors ?

- (A) Nagpur Plan
- (B) Delhi Plan
- (C) Madras Plan
- (D) Bombay Plan

91. निम्नलिखित में से किस स्थान पर सुभाष चन्द्र बोस ने आजाद हिंद फौज का नेतृत्व ग्रहण किया ?

- (A) बैंकाक
- (B) रंगून
- (C) सिंगापुर
- (D) टोक्यो

92. स्वतंत्रता के पश्चात् निम्नलिखित में से किस योजना द्वारा सिंचाई तथा उद्योग क्षेत्रों में शासकीय निवेश को अनुशंसा की गई ?

- (A) नागपुर योजना
- (B) दिल्ली योजना
- (C) मद्रास योजना
- (D) बम्बई योजना

SPACE FOR ROUGH WORK / रफ कार्य के लिये जगह

93. Which of the following rights are given to non-citizens under article 22 of the constitution ?

- (a) the right to be informed as soon as may be of ground of arrest.
- (b) the right to consult and to be represented by a lawyer of his own choice.
- (c) the right to be produced before a Magistrate within 24 hours.
- (d) the freedom for detention beyond the said period except by the order of the Magistrate.

- (A) (a)
- (B) (a), (b)
- (C) (a), (b), (c)
- (D) (a), (b), (c), (d)

94. Which of the following pair is correct ?

- (A) Organic Rock - Slate
- (B) Richter Scale - Wind velocity
- (C) Black cotton soil - Podzol
- (D) Tornadoes - Australia

93. निम्न में से कौन-से अधिकार संविधान के अनुच्छेद 22 के अन्तर्गत गैर-नागरिकों को दिए गए हैं ?

- (a) गिरफ्तारी के कारणों को शीघ्रताशीघ्र बताये जाने का अधिकार
- (b) अपनी रुचि के वकील से परामर्श करने और बचाव का अधिकार
- (c) गिरफ्तारी के बाद 24 घण्टों के अन्दर किसी मजिस्ट्रेट के समक्ष पेश किए जाने का अधिकार
- (d) उक्त समय से अधिक मजिस्ट्रेट के आदेश के बिना निरोध से स्वतंत्रता

- (A) (a)
- (B) (a), (b)
- (C) (a), (b), (c)
- (D) (a), (b), (c), (d)

94. निम्नलिखित में से कौन सी जोड़ी सही है ?

- (A) कार्बनिक शैल - स्लेट
- (B) रिक्टर स्केल - वायु गति
- (C) काली कपास मृदा - पॉडजाल
- (D) टॉरनेडो - आस्ट्रेलिया

SPACE FOR ROUGH WORK / रफ कार्य के लिये जगह

95. On which river Gandhi Sagar dam has been constructed ?

- (A) Yamuna
- (B) Chambal
- (C) Kali Sindh
- (D) Narmada

95. गाँधी-सागर बाँध किस नदी पर बनाया गया है ?

- (A) यमुना
- (B) चंबल
- (C) काली सिंध
- (D) नर्मदा

96. Which statement is true ?

- (a) All the islands in the Arabian Sea have a coral origin.
 - (b) These islands are surrounded by fringing reefs.
- (A) (a) is true
 - (B) (b) is true
 - (C) Both (a) and (b) are true
 - (D) (a) is true but (b) is false

96. कौनसा कथन सत्य है ?

- (a) अरब सागर के सभी द्वीपों का उद्भव प्रवाल से हुआ है।
 - (b) ये द्वीप प्रवाल भित्तियों से घिरे हैं।
- (A) कथन (a) सत्य है।
 - (B) कथन (b) सत्य है।
 - (C) कथन (a) एवं (b) दोनों सत्य हैं।
 - (D) कथन (a) सत्य लेकिन कथन (b) असत्य है।

97. Which of the following pair is incorrect ?

- (A) Ajanta - Painting and Sculpture
- (B) Mahabalipuram - Events of Mahabharat
- (C) Meenakshi Temple - Cauvery River
- (D) Khajuraho Temple - Chandela

97. निम्नलिखित में से कौन-सी जोड़ी सही नहीं है ?

- (A) अजन्ता - चित्र तथा मूर्ति
- (B) महाबलीपुरम - महाभारत की घटनाएँ
- (C) मीनाक्षी मन्दिर - कावेरी नदी
- (D) खजुराहो मन्दिर - चन्देला

SPACE FOR ROUGH WORK / रफ कार्य के लिये जगह

98. What is the Gender Development Index (GDI) of India in the year 2013 ?

- (A) 0.586
- (B) 0.828
- (C) 0.563
- (D) None of these

99. What is the name of Dormant Volcano of Andaman island ?

- (A) Barren Island
- (B) Camorta Island
- (C) Long Island
- (D) Sisters Island

100. Season unemployment is related to :

- (A) Public sectors
- (B) Agriculture
- (C) Private sectors
- (D) None of above

98. वर्ष 2013 में भारत का लैंगिक विकास सूचकांक क्या है ?

- (A) 0.586
- (B) 0.828
- (C) 0.563
- (D) इनमें से कोई नहीं

99. अंडमान द्वीप समूह के सुसुप्त ज्वालामुखी का क्या नाम है ?

- (A) बैरन द्वीप
- (B) कैमोर्टा द्वीप
- (C) लॉग आइलैंड
- (D) सिस्टर्स द्वीप

100. मौसमी बेरोजगारी संबंधित है :

- (A) सार्वजनिक क्षेत्रों से
- (B) कृषि से
- (C) निजी क्षेत्रों से
- (D) उपरोक्त में कोई नहीं

SPACE FOR ROUGH WORK / रफ कार्य के लिये जगह

101. For the enforcement of fundamental rights conferred by part III of the constitution and for any other purpose who has a right to order of writs of Habeas Corpus, Mandamus, Prohibition, Certiorary and Quo warranto :

- (A) Supreme Court of India
- (B) High Court
- (C) The Tribunal made under the constitution
- (D) None of above

102. On the coast of which river tea is cultivated in Darjeeling ?

- (A) Tista
- (B) Surma
- (C) Manas
- (D) Lohit

103. The remains of Vijayanagar Empire can be found in :

- (A) Bijapur
- (B) Golconda
- (C) Hampi
- (D) Surat

101. संविधान के भाग तीन में उल्लिखित मौलिक अधिकारों को लागू करने और किसी अन्य प्रयोजन के लिए किसे बंदी प्रत्यक्षीकरण, परमाधिदेश, प्रतिषेध, उत्प्रेषण लेख और अधिकार पृच्छा जारी करने का अधिकार है :

- (A) भारत का सर्वोच्च न्यायालय
- (B) उच्च न्यायालय
- (C) संविधान के अन्तर्गत गठित न्यायाधिकरण
- (D) उपरोक्त में कोई नहीं

102. दार्जिलिंग में किस नदी के तट पर चाय की खेती की जाती है ?

- (A) तिस्ता
- (B) सुरमा
- (C) मानस
- (D) लोहित

103. विजयनगर साम्राज्य के अवशेष पाये जा सकते हैं :

- (A) बीजापुर में
- (B) गोलकुण्डा में
- (C) हम्पी में
- (D) सूरत में

SPACE FOR ROUGH WORK / रफ कार्य के लिये जगह

104. On which of the following date Gandhiji started his historic March from Sabarmati Ashram to Dandi ?

- (A) 12 March, 1930
- (B) 15 March, 1930
- (C) 6 April, 1930
- (D) 10 April, 1930

105. What is the percentage of skilled work force in India as per Labour Bureau Report 2014 ?

- (A) 5 percent
- (B) 2 percent
- (C) 1.5 percent
- (D) None of these

106. What is the share of Agriculture and Allied Activities in Gross Value Added in Indian economy for the year 2014-15 at new series 2011-12 ?

- (A) 18.6 percent
- (B) 17.9 percent
- (C) 17.6 percent
- (D) 29.7 percent

104. निम्नलिखित में से किस तिथि को गाँधीजी ने साबरमती आश्रम से दांडी के लिए ऐतिहासिक पदयात्रा प्रारंभ की ?

- (A) 12 मार्च, 1930
- (B) 15 मार्च, 1930
- (C) 6 अप्रैल, 1930
- (D) 10 अप्रैल, 1930

105. लेबर ब्यूरो रिपोर्ट 2014 के अनुसार भारत में कौशलयुक्त कार्यशक्ति का प्रतिशत क्या है ?

- (A) 5 प्रतिशत
- (B) 2 प्रतिशत
- (C) 1.5 प्रतिशत
- (D) इनमें से कोई नहीं

106. 2011-12 की नई श्रृंखला पर वर्ष 2014-15 के लिए भारतीय अर्थव्यवस्था में कृषि एवं सम्बद्ध क्रियाओं का सकल मूल्यवर्धित आय में क्या हिस्सा है ?

- (A) 18.6 प्रतिशत
- (B) 17.9 प्रतिशत
- (C) 17.6 प्रतिशत
- (D) 29.7 प्रतिशत

SPACE FOR ROUGH WORK / रफ कार्य के लिये जगह

107. What is **correct** about National Capital of Delhi according to 69th constitutional amendment ?

- (a) The Administrator will be designated as Lieutenant Governor
- (b) The Chief Minister is appointed by Lieutenant Governor
- (c) The Chief Minister is appointed by President
- (d) The Lieutenant Governor will exercise his powers with the advice of Council of Ministers
- (e) In case of differences between Lieutenant Governor and Council of Ministers, the matter is referred to Home Ministry
- (f) In case of differences between Lieutenant Governor and Council of Ministers, the matter is referred to The President

(A) (a) (c) (d) (e)

(B) (a) (b) (d) (f)

(C) (b) (d) (e) (f)

(D) None of above

107. 69 वां सांविधानिक संशोधन के अनुसार राष्ट्रीय राजधानी दिल्ली के सम्बंध में सही क्या है ?

- (a) प्रशासक का पदनाम उप राज्यपाल होगा
- (b) उप राज्यपाल के द्वारा मुख्यमंत्री की नियुक्ति की जाएगी
- (c) राष्ट्रपति के द्वारा मुख्यमंत्री की नियुक्ति की जाएगी
- (d) उप राज्यपाल मन्त्रिपरिषद् की सलाह से अपनी शक्तियों का प्रयोग करेंगे
- (e) उप राज्यपाल और मन्त्रिपरिषद् के मध्य मतभेद की स्थिति में प्रकरण गृह मंत्रालय को भेजा जाएगा
- (f) उप राज्यपाल और मन्त्रिपरिषद् के मध्य मतभेद की स्थिति में प्रकरण राष्ट्रपति को भेजा जाएगा

(A) (a) (c) (d) (e)

(B) (a) (b) (d) (f)

(C) (b) (d) (e) (f)

(D) उपरोक्त में कोई नहीं

SPACE FOR ROUGH WORK / रफ कार्य के लिये जगह

108. By which of the following provisions the Indian Judiciary is called independent :

- (a) The Judges are appointed by the Chief of the Executive.
- (b) The salary of Judges can not be reduced during the tenure.
- (c) The removal process of Judges is tough.
- (d) The Judiciary is given the power of Judicial Review.
- (e) The tenure of the Judges is long.
- (f) In India there is Supremacy of the Constitution.
- (g) India is a union of states.
- (h) There is separation of powers among the Executive, Legislative and Judiciary.

(A) (a) (b) (c) (f) (g)

(B) (b) (c) (d) (g) (h)

(C) (a) (b) (c) (e) (h)

(D) None of above

108. निम्न में से किस प्रावधानों के कारण भारतीय न्यायपालिका स्वतंत्र कहलाती है :

- (a) न्यायाधीशों की नियुक्ति कार्यपालिका अध्यक्ष के द्वारा की जाती है।
- (b) न्यायाधीशों का वेतन उनके कार्यकाल में कम नहीं किया जा सकता।
- (c) न्यायाधीशों की पदच्युति की प्रक्रिया कठिन है।
- (d) न्यायपालिका को न्यायिक पुनर्विलोकन का अधिकार दिया गया है।
- (e) न्यायाधीशों का कार्यकाल लंबा है।
- (f) भारत में संविधान सर्वोच्च है।
- (g) भारत राज्यों का एक संघ है।
- (h) कार्यपालिका, विधायिका और न्यायपालिका के मध्य शक्तियों का पृथक्करण है।

(A) (a) (b) (c) (f) (g)

(B) (b) (c) (d) (g) (h)

(C) (a) (b) (c) (e) (h)

(D) उपरोक्त में कोई नहीं

SPACE FOR ROUGH WORK / रफ कार्य के लिये जगह

109. Which of the following is the reasonable restriction under article 19 ?

- (A) To fix a place for Bus Stand
- (B) To fix minimum wages in a particular factory.
- (C) —Imposition of license fee for such trades
- (D) All of the above

110. What is the total foodgrains production for India estimated by Ministry of Agriculture during the year 2014-15 ?

- (A) 265.6 million tonnes
- (B) 283 million tonnes
- (C) 257.1 million tonnes
- (D) 255.6 million tonnes

109. इनमें से कौन-सा अनुच्छेद 19 के अन्तर्गत युक्तियुक्त निर्बंधन है ?

- (A) बस स्टैण्ड के लिए स्थान नियत करना।
- (B) एक निश्चित कारखाने में न्यूनतम मजदूरी निर्धारित करना।
- (C) किसी व्यापार के लिए लाइसेंस शुल्क निर्धारित करना।
- (D) उपर्युक्त सभी

110. वर्ष 2014-15 की अवधि के लिए कृषि मंत्रालय के द्वारा भारत के लिए कुल कितना खाद्यान्न उत्पादन का अनुमान लगाया गया है ?

- (A) 265.6 मिलियन टन
- (B) 283 मिलियन टन
- (C) 257.1 मिलियन टन
- (D) 255.6 मिलियन टन

SPACE FOR ROUGH WORK / रफ कार्य के लिये जगह

(5) CURRENT AFFAIRS

(5) समसामयिक घटनाक्रम

111. In which of the following group of states the forthcoming assembly elections will be held ?

- (i) Assam
- (ii) Punjab
- (iii) West Bengal
- (iv) Arunachal Pradesh
- (v) Kerala
- (vi) Tamil Nadu
- (A) (i), (ii) and (iii)
- (B) (ii), (iii) and (iv)
- (C) (iv), (v) and (vi)
- (D) (v), (vi) and (i)

111. निम्नलिखित में से किन राज्यों के समूह में आगामी विधान सभा चुनाव आयोजित होगी ?

- (i) असम
- (ii) पंजाब
- (iii) पश्चिम बंगाल
- (iv) अरुणाचल प्रदेश
- (v) केरल
- (vi) तमिलनाडु
- (A) (i), (ii) तथा (iii)
- (B) (ii), (iii) तथा (iv)
- (C) (iv), (v) तथा (vi)
- (D) (v), (vi) तथा (i)

SPACE FOR ROUGH WORK / रफ कार्य के लिये जगह

112. Donald Trump is a presidential Candidate, in the forthcoming USA presidential election for which party ?

- (A) Democratic party
- (B) Republican party
- (C) Liberal party
- (D) None of above

113. What is ASTROSAT ?

- (A) India's First interplanetary mission for Mars
- (B) It is the First Space Observatory launched by India
- (C) It is India's First Remote Sensing Satellite
- (D) None of above

114. Which of the following is **not** the aim of the "Setu Bharatam Project" ?

- (A) To make all National Highways free from railway level crossing
- (B) Constructing New Bridges
- (C) Reconstructing Old Bridges
- (D) None of above

112. संयुक्त राष्ट्र अमेरिका के आगामी राष्ट्रपति चुनाव के लिए डोनाल्ड ट्रम्प किस पार्टी के उम्मीदवार हैं ?

- (A) डेमोक्रेटिक पार्टी
- (B) रिपब्लिकन पार्टी
- (C) लिबरल पार्टी
- (D) उपरोक्त में कोई नहीं

113. 'एस्ट्रोसैट' क्या है ?

- (A) यह मंगल ग्रह के लिए भारत का प्रथम अन्तराग्रहीय मिशन है
- (B) यह भारत का प्रथम अंतरिक्ष वेधशाला है
- (C) यह भारत का प्रथम रिमोट सेन्सिंग उपग्रह है
- (D) उपरोक्त में कोई नहीं

114. निम्नलिखित में से "सेतु भारतम प्रोजेक्ट" का क्या उद्देश्य नहीं है ?

- (A) समस्त राष्ट्रीय मार्गों को रेलवे क्रॉसिंग से मुक्त रखना
- (B) नए पुलों का निर्माण
- (C) पुराने पुलों का पुनर्निर्माण
- (D) उपरोक्त में कोई नहीं

SPACE FOR ROUGH WORK / रफ कार्य के लिये जगह

115. Freedom-251 has been presented as :

- (A) Smart Mobile Phone
- (B) Android Phone
- (C) (A) and (B) both
- (D) None of above

115. फ्रीडम-251 को किस तरह पेश किया गया ?

- (A) स्मार्ट मोबाइल फोन के रूप में
- (B) एन्ड्रॉयड फोन के रूप में
- (C) (A) तथा (B) दोनों
- (D) उपरोक्त में कोई नहीं

116. In this year Oscar awards for the best film is given to :

- (A) Revenant
- (B) Spotlight
- (C) Bridge of Spies
- (D) Mad Max : Fury Road

116. इस वर्ष में सर्वश्रेष्ठ फिल्म के लिए आस्कर पुरस्कार किस फिल्म को दिया गया ?

- (A) रेवनेन्ट
- (B) स्पॉटलाइट
- (C) ब्रिज ऑफ स्पाइस
- (D) मैड मैक्स : फ्यूरी रोड

117. ICGS Apoorva is a :

- (A) Fast patrol vessel
- (B) Submarine
- (C) Radar
- (D) Short Range missile

117. ICGS अपूर्वा है :

- (A) एक तेज गश्ती पोत
- (B) पनडुब्बी
- (C) राडार
- (D) कम दूरी प्रक्षेपास्त्र

SPACE FOR ROUGH WORK / रफ कार्य के लिये जगह

118. Which of the following is **not** connected with Prime Minister recent visit in this State ?

- (A) Gaudia Mission
- (B) Kurubhat
- (C) Rurban Mission
- (D) None of above

119. Which of the following statement is **not** true about P.A. Sangma ?

- (A) He was a member of Lok Sabha Nine times
- (B) He was Speaker of 11th Lok Sabha
- (C) He was Chief Minister of Arunachal Pradesh
- (D) None of above

120. Which of the following European Countries is in deep financial crisis for last one year ?

- (A) Poland
- (B) Greece
- (C) Hungary
- (D) Romania

118. प्रधानमंत्री के हाल ही के इस राज्य के प्रवास से निम्नलिखित में क्या संबंधित **नहीं** है ?

- (A) गौडिया मिशन
- (B) कुरुभट
- (C) ररबन मिशन
- (D) उपरोक्त में कोई नहीं

119. पी.ए. संगमा के बारे में निम्नलिखित में से क्या सही **नहीं** है ?

- (A) वे नौ बार लोकसभा सदस्य बने
- (B) वे 11वीं लोकसभा के अध्यक्ष थे
- (C) वे अरुणाचल प्रदेश के मुख्यमंत्री थे
- (D) उपरोक्त में कोई नहीं

120. निम्नलिखित में से कौन सा यूरोपियन देश पिछले वर्ष से ही गंभीर वित्तीय संकट में है ?

- (A) पोलैंड
- (B) ग्रीस
- (C) हंगरी
- (D) रोमानिया

SPACE FOR ROUGH WORK / रफ कार्य के लिये जगह

PART - B

(6) GENERAL KNOWLEDGE OF STATE

121. What was the total installed capacity of electricity generation excluding nuclear power as on 31.12.2014 in the state ?
- (A) 10689 MW
(B) 11152 MW
(C) 57814 MW
(D) None of these
122. What is correct about the ordinance making power of Governor ?
- (i) The Governor can only issue ordinances when the State Legislative Assembly is not in session.
(ii) The Governor can issue ordinance when the State Legislative Assembly is in session.
(iii) The Governor must be satisfied that Circumstances exists to take immediate action.
(iv) The court can examine the validity of the ordinance on the ground for the issuing the ordinance.
(v) The existence of such necessity is a justiciable issue.
(vi) Ordinance making power is a discretionary power of Governor.
(vii) The Governor exercise this power on the advice of Council of Ministers.
- (A) (i), (ii), (vi)
(B) (ii), (iv), (v)
(C) (i), (iii), (vii)
(D) (iii), (v), (vi)

भाग - ब

(6) राज्य की सामान्य जानकारी

121. राज्य में दिनांक 31.12.2014 में न्यूक्लियर पॉवर को छोड़कर कुल कितनी क्षमता विद्युत शक्ति का सृजन किया जा चुका था ?
- (A) 10689 मेगावाट
(B) 11152 मेगावाट
(C) 57814 मेगावाट
(D) इनमें से कोई नहीं
122. राज्यपाल की अध्यादेश जारी करने के विषय में सही क्या है ?
- (i) जब राज्य विधानसभा का अधिवेशन न चल रहा हो तब ही राज्यपाल अध्यादेश जारी कर सकता है।
(ii) जब राज्य विधानसभा सत्र में हो तब भी राज्यपाल अध्यादेश जारी कर सकता है।
(iii) राज्यपाल को संतुष्ट होना चाहिए कि ऐसी परिस्थितियां विद्यमान हैं कि तत्काल कार्यवाही किया जाय।
(iv) अध्यादेश जारी करने के आधारों की वैधता का परीक्षण न्यायालय कर सकता है।
(v) आवश्यकता की उपस्थिति एक न्याययोग्य विषय है।
(vi) अध्यादेश जारी करने की शक्ति राज्यपाल की स्वविवेकी शक्ति है।
(vii) राज्यपाल इस शक्ति का प्रयोग मंत्रिपरिषद् की सलाह से करता है।
- (A) (i), (ii), (vi)
(B) (ii), (iv), (v)
(C) (i), (iii), (vii)
(D) (iii), (v), (vi)

SPACE FOR ROUGH WORK / रफ कार्य के लिये जगह

123. How many lakh hectares irrigation capacity is created till March 2014 after formation of this state ?

- (A) 19.04 Lakh Hectares
- (B) 13.28 Lakh Hectares
- (C) 5.76 Lakh Hectares
- (D) 7.56 Lakh Hectares

124. Which of the following is correct ?

- (i) The President-in-Council consist of the president and seven members in case of municipal council.
- (ii) The members of the above council are elected by the members of municipal council.
- (iii) A few members are nominated from Nagar Panchayat in above council.
- (iv) The president of municipal council is ex-officio chairman of above council.
- (v) In the absence of the President of municipal council he nominates a member to preside over the meetings of above council.
- (vi) The members of President-in-Council hold office during the pleasure of president of municipal council.

- (A) (i), (iv), (vi)
- (B) (ii), (iii), (v)
- (C) (i), (iii), (vi)
- (D) (ii), (iv), (v)

123. इस राज्य के बनने के बाद कितने लाख हेक्टर में मार्च 2014 तक सिंचाई क्षमता का निर्माण किया गया ?

- (A) 19.04 लाख हेक्टर
- (B) 13.28 लाख हेक्टर
- (C) 5.76 लाख हेक्टर
- (D) 7.56 लाख हेक्टर

124. निम्न में से सही क्या है ?

- (i) नगरपालिका परिषद् की प्रेसिडेंट-इन-काउंसिल में एक अध्यक्ष और सात सदस्य होते हैं।
- (ii) उक्त काउंसिल के सदस्य, नगरपालिका परिषद् के सदस्यों द्वारा चुने जाते हैं।
- (iii) उक्त काउंसिल में कुछ सदस्य नगर पंचायत से नामांकित किए जाते हैं।
- (iv) नगरपालिका परिषद् का अध्यक्ष, उक्त काउंसिल का पदेन सभापति होता है।
- (v) नगरपालिका परिषद् के अध्यक्ष की अनुपस्थिति में वह उक्त काउंसिल की बैठकों की अध्यक्षता करने के लिए एक सदस्य को मनोनीत करता है।
- (vi) प्रेसिडेंट-इन-काउंसिल के सदस्य, नगरपालिका परिषद् के अध्यक्ष प्रसाद पर्यन्त अपने पद पर बने रहते हैं।

- (A) (i), (iv), (vi)
- (B) (ii), (iii), (v)
- (C) (i), (iii), (vi)
- (D) (ii), (iv), (v)

SPACE FOR ROUGH WORK / रफ कार्य के लिये जगह

125. Stalactite and Stalagmite formation of Karst landscape is found in :
- (A) Kutumsar Cave
(B) Barsur
(C) Chitrakot
(D) Dalpat Sagar
126. When is Rajim Kumbh fair held ?
- (A) Magh Poornima
(B) Magh Amavasya
(C) Paush Poornima
(D) Kartik Poornima
127. What is the major mineral in the state ?
- (A) Iron-Ore
(B) Coal
(C) Lime-stone
(D) Dolomite
128. Where is 'Gems and Jewellery' the Special Economic Zone created in the state ?
- (A) Rajnandgaon
(B) Raigarh
(C) Rawabhatha
(D) New Raipur
129. Which of the following is **not** included in the most backward tribals of this state ?
- (A) Abujhmadia
(B) Kanwar
(C) Kamar
(D) Baiga
125. कार्स्ट स्थलाकृति में निर्मित स्टैलेक्टाइट एवं स्टैलेगमाइट यहाँ मिलता है :
- (A) कुटुमसर गुफा
(B) बारसूर
(C) चित्रकोट
(D) दलपत सागर
126. राजिम कुंभ मेला कब लगता है ?
- (A) माघ पूर्णिमा
(B) माघ अमावस्या
(C) पौष पूर्णिमा
(D) कार्तिक पूर्णिमा
127. राज्य में प्रमुख खनिज कौन सी है ?
- (A) लौह-अयस्क
(B) कोयला
(C) चूना-पत्थर
(D) डोलोमाइट
128. 'जेम्स एवं ज्वेलरी' विशेष आर्थिक जोन राज्य में कहाँ सृजित किया गया है ?
- (A) राजनांदगाँव
(B) रायगढ़
(C) रावाभाठा
(D) नया रायपुर
129. निम्नलिखित में से कौन इस राज्य की अत्यधिक पिछड़ी जनजातियों में सम्मिलित नहीं है ?
- (A) अबूझमाड़िया
(B) कंवार
(C) कामार
(D) बैगा

SPACE FOR ROUGH WORK / रफ कार्य के लिये जगह

130. At which of the following place in this state the incident of revolt against the British occurred in 1857 ?

- (A) Raipur
- (B) Bilaspur
- (C) Sambalpur
- (D) Sonakhan

131. In which district of this state Tiger point waterfall is located ?

- (A) Bastar
- (B) Korea
- (C) Sarguja
- (D) Jashpur

132. For which of the following the riddle 'panch bhai ke eke angana' is popular in this state ?

- (A) Foot
- (B) Wrist
- (C) Ankle
- (D) Palm

133. In which of the following year peasants' movement occurred in the Dondilohara Zamindari of this state ?

- (A) 1920 A.D.
- (B) 1925 A.D.
- (C) 1937 A.D.
- (D) 1942 A.D.

130. इस राज्य के निम्नलिखित में से किस स्थान में 1857 में अंग्रेजों के विरुद्ध विद्रोह की घटना घटित हुई ?

- (A) रायपुर
- (B) बिलासपुर
- (C) सम्बलपुर
- (D) सोनाखान

131. टाइगर पॉइंट जलप्रपात इस राज्य के किस जिले में स्थित है ?

- (A) बस्तर
- (B) कोरिया
- (C) सरगुजा
- (D) जशपुर

132. निम्नलिखित में से किसके लिए जनउला (पहेली) 'पाँच भाई के एके अंगना' इस राज्य में प्रचलित है ?

- (A) पंजा (पैर का)
- (B) कलाई
- (C) टखना
- (D) हथेली

133. इस राज्य की डोंडीलोहारा जमींदारी में निम्नलिखित में से किस वर्ष में किसान आंदोलन हुआ ?

- (A) 1920 ई.
- (B) 1925 ई.
- (C) 1937 ई.
- (D) 1942 ई.

SPACE FOR ROUGH WORK / रफ कार्य के लिये जगह

134. The President and members of Nagar Panchayat take oath before whom ?

- (A) Collector
- (B) Addl. Collector
- (C) Chief Executive Officer
- (D) Sub-Divisional Magistrate

135. In which place of this state Rout Nach Mahotsav is organised, since 1978 ?

- (A) Raipur
- (B) Bilaspur
- (C) Jagdalpur
- (D) Rajnandgaon

136. Interest payment is included in the following expenditure :

- (A) Planned Expenditure
- (B) Non-plan Expenditure
- (C) Capital Expenditure
- (D) None of above

137. Which tourist place is considered as the birth place of St. Vallabhacharya ?

- (A) Rajim
- (B) Sirpur
- (C) Champaranya
- (D) Sihawa

134. नगर पंचायत के अध्यक्ष और सदस्य किसके समक्ष शपथ लेते हैं ?

- (A) कलेक्टर
- (B) अतिरिक्त कलेक्टर
- (C) मुख्य कार्यपालन अधिकारी
- (D) अनुविभागीय दण्डाधिकारी

135. सन् 1978 से इस राज्य के किस स्थान पर राउत नाच महोत्सव आयोजित होता है ?

- (A) रायपुर
- (B) बिलासपुर
- (C) जगदलपुर
- (D) राजनांदगाँव

136. ब्याज-भुगतान निम्न व्यय पर शामिल किया जाता है :

- (A) आयोजनागत व्यय
- (B) गैर-आयोजनागत व्यय
- (C) पूंजीगत व्यय
- (D) उपर्युक्त में से किसी में नहीं

137. कौन सा पर्यटन स्थल संत वल्लभाचार्य का जन्मस्थान माना जाता है ?

- (A) राजिम
- (B) सिरपुर
- (C) चंपारण्य
- (D) सिहावा

SPACE FOR ROUGH WORK / रफ कार्य के लिये जगह

138. Which is the principal tax of this state from the following ?
- (A) Commercial Tax
(B) Central Sales Tax
(C) Entry Tax
(D) Hotel Tax
139. By which of the following name the metal sculpture art of Raigarh district of this state is known ?
- (A) Malar
(B) Ghadwa
(C) Jhara
(D) Tara
140. Under whose leadership a forest Satyagraha took place at Mahasamund in this state in September 1930 ?
- (A) Narayan Rao Meghawale
(B) Shankar Rao Ganodwale
(C) Sunderlal Sharma
(D) Nathuji Jagtap
138. निम्न में से कौन सा कर इस राज्य का प्रमुख कर है ?
- (A) वाणिज्यिक कर
(B) केन्द्रीय विक्रय कर
(C) प्रवेश कर
(D) होटल कर
139. निम्नलिखित में से किस नाम से इस राज्य के रायगढ़ जिले की धातु मूर्तिकला जानी जाती है ?
- (A) मलार
(B) घड़वा
(C) झारा
(D) तारा
140. सितंबर 1930 में इस राज्य में महासमुंद नामक स्थान पर निम्नलिखित में से किसके नेतृत्व में जंगल सत्याग्रह हुआ ?
- (A) नारायणराव मेघावाले
(B) शंकरराव गनोदवाले
(C) सुन्दरलाल शर्मा
(D) नथूजी जगताप

SPACE FOR ROUGH WORK / रफ कार्य के लिये जगह

PART - B

(7) SPORTS

भाग - ब

(7) खेलकूद

141. Which of the following is **not** true about under - 19 world cup cricket ?

- (A) The final match was played in Mirpur
- (B) West Indies beats India by 5 wickets in final
- (C) Keacy Carty was named "player of the tournament"
- (D) Rahul Dravid was coach for Indian team

141. अन्डर - 19 विश्व कप क्रिकेट के सम्बन्ध में क्या सही नहीं है ?

- (A) इसका फायनल मैच मीरपुर में खेला गया
- (B) वेस्ट इण्डिज ने फायनल में भारत को 5 विकेट से हराया
- (C) केसी कार्टी को "टूर्नामेन्ट का खिलाड़ी" घोषित किया गया
- (D) भारतीय टीम के कोच राहुल द्रविड़ थे

142. 21st FIFA World Cup 2018 is going to be organized in :

- (A) France
- (B) England
- (C) Russia
- (D) Holland

142. 21 वाँ फीफा विश्व कप 2018 कहाँ आयोजित किया जाएगा ?

- (A) फ्रांस
- (B) इंग्लैण्ड
- (C) रूस
- (D) हॉलैंड

SPACE FOR ROUGH WORK / रफ कार्य के लिये जगह

143. Where was the 12th South Asian Games organised ?

- (A) Guwahati and Imphal
- (B) Guwahati and Shillong
- (C) Guwahati and Itanagar
- (D) Guwahati and Kohima

144. Player of this state Renuka Yadav is associated with which of the following game ?

- (A) Cricket
- (B) Hockey
- (C) Badminton
- (D) Tennis

145. 'Playing in my way' is the name of autobiography of which of the following ?

- (A) Kapil Dev
- (B) Sunil Gavaskar
- (C) Sachin Tendulkar
- (D) Rahul Dravid

143. 12 वें दक्षिण एशियाई खेलों का आयोजन कहाँ किया गया ?

- (A) गोहाटी एवं इम्फाल
- (B) गोहाटी एवं शिलांग
- (C) गोहाटी एवं इटानगर
- (D) गोहाटी एवं कोहिमा

144. इस राज्य की खिलाड़ी रेणुका यादव निम्न में से किस खेल से संबंधित है ?

- (A) क्रिकेट
- (B) हॉकी
- (C) बैडमिंटन
- (D) टेनिस

145. 'प्लेइंग इन माई वे' निम्न में से किसकी आत्मकथा का नाम है ?

- (A) कपिल देव
- (B) सुनिल गावस्कर
- (C) सचिन तेंदुलकर
- (D) राहुल द्रविड़

SPACE FOR ROUGH WORK / रफ कार्य के लिये जगह

PART - B
(8) NATIONAL-INTERNATIONAL

भाग - ब
(8) देश-विदेश

146. Industrial Development Bank of India (IDBI) started function in :
(A) 1950
(B) 1955
(C) 1960
(D) 1964
147. The Headquarters for Economic Commission for Asia and Pacific is at :
(A) Manila
(B) Singapore
(C) Bangkok
(D) None of above
148. Which of the following is **not** correctly matched ?
(A) Berlin - Rhine
(B) London - Thames
(C) New York - Hudson
(D) Vienna - Danube
149. The Indian Flag was officially adopted on which of the following date ?
(A) 15th August, 1947
(B) 22nd July, 1947
(C) 26th January, 1950
(D) None of above
150. Who is the Vice Chairman of Niti Ayog ?
(A) Raghu Ram Rajan
(B) Arvind Pangaria
(C) Bibek Debroy
(D) Arvind Subramaniam
146. भारतीय औद्योगिक विकास बैंक कब प्रारम्भ हुआ ?
(A) 1950 में
(B) 1955 में
(C) 1960 में
(D) 1964 में
147. एशिया तथा पैसिफिक का आर्थिक आयोग का मुख्यालय कहाँ है ?
(A) मनीला
(B) सिंगापुर
(C) बैंकॉक
(D) उपरोक्त में कोई नहीं
148. निम्नलिखित में से कौन सा सही सुमेलित नहीं है ?
(A) बर्लिन - राइन
(B) लन्दन - थेम्स
(C) न्यूयार्क - हड्सन
(D) विएना - डेन्यूब
149. भारतीय ध्वज को किस तिथि से अधिकृत ध्वज के रूप में धारण किया गया ?
(A) 15 अगस्त, 1947
(B) 22 जुलाई, 1947
(C) 26 जनवरी, 1950
(D) उपरोक्त में कोई नहीं
150. नीति आयोग के उपाध्यक्ष कौन हैं ?
(A) रघुराम राजन
(B) अरविन्द पनगरिया
(C) बिबेक देवराय
(D) अरविन्द सुब्रमन्यम

- o O o -

- o O o -

SPACE FOR ROUGH WORK / रफ कार्य के लिये जगह

SET - A

उत्तर अंकित करने का समय : 3.00 घंटे
Time for marking answers : 3.00 Hours

अधिकतम अंक : 150
Maximum Marks : 150

नोट :

1. इस प्रश्न-पुस्तिका में निम्न भाग होंगे -

भाग - अ : कम्प्यूटर संबंधी सामान्य ज्ञान	1-50
भाग - ब : (1) हिन्दी (व्याकरण सहित)	51-60
(2) अंग्रेज़ी	61-70
(3) गणित	71-90
(4) सामान्य ज्ञान	91-110
(5) समसामयिक घटनाक्रम	111-120
(6) राज्य की सामान्य जानकारी	121-140
(7) खेलकूद	141-145
(8) देश-विदेश	146-150

प्रत्येक प्रश्न 1 अंक का है। सभी प्रश्न हल करना अनिवार्य है।

2. प्रश्नों के उत्तर, दी गई OMR उत्तर-शीट (आंसर-शीट) पर अंकित कीजिए।
3. गलत उत्तर अंकित करने पर 1/4 अंक काटे जायेंगे।
4. किसी भी तरह के कैलकुलेटर या लॉग टेबल एवं मोबाइल फोन का प्रयोग वर्जित है।
5. OMR उत्तर-शीट (आंसर-शीट) का प्रयोग करते समय ऐसी कोई असावधानी न करें/बरतें जिससे यह फट जाये या उसमें मोड़ या सिलवट आदि पड़ जायें जिसके फलस्वरूप वह खराब हो जाये।

Note :

1. This Question-Booklet contains Parts -
Part - A : Knowledge of Computer 1-50
Part - B : (1) Hindi (with Grammar) 51-60
(2) English 61-70
(3) Mathematics 71-90
(4) General Knowledge 91-110
(5) Current Affairs 111-120
(6) General Knowledge of State 121-140
(7) Sports 141-145
(8) National-International 146-150

Each question carries 1 mark. All questions are compulsory.

2. Indicate your answers on the OMR Answer-Sheet provided.
3. 1/4 mark will be deducted for each wrong Answer.
4. Use of any type of calculator or log table and mobile phone is prohibited.
5. While using OMR Answer-Sheet care should be taken so that the Answer-Sheet does not get torn or spoiled due to folds and wrinkles.